

GRUNDWISSENTEST 2023 IM FACH MATHEMATIK

FÜR DIE JAHRGANGSSTUFE 9 WAHLPFLICHTFÄCHERGRUPPE II/III DER REALSCHULE
(ARBEITSZEIT: 45 MINUTEN)

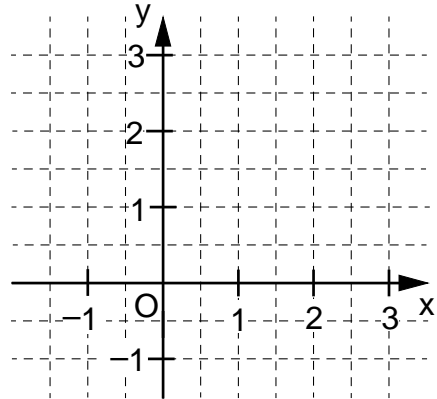
NAME: _____

KLASSE: 9__

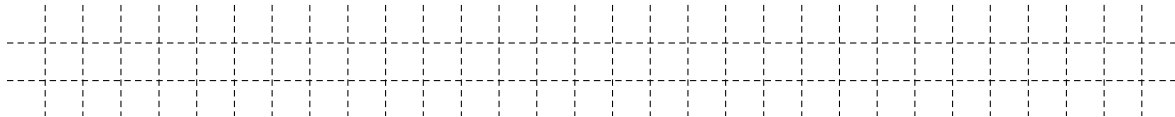
PUNKTE: ____/23 NOTE: ____

**Hinweis: Die Grundmenge für die verwendeten Variablen ist \mathbb{Q} ,
sofern nichts anderes angegeben ist.**

- 1 a) Zeichne die Ursprungsgerade g mit der Gleichung
 $y = \frac{1}{3} \cdot x$ in das Koordinatensystem.



- b) Überprüfe durch Rechnung, ob der Punkt $P(4|-1)$
auf der Gerade $h: y = -0,25 \cdot x$ liegt.



____/1
____/1

- 2 Der Faktor $3ac^2$ wurde ausgeklammert.
Vervollständige. $6ac^3 - 27a^2c^2 = 3ac^2 \cdot (\quad)$

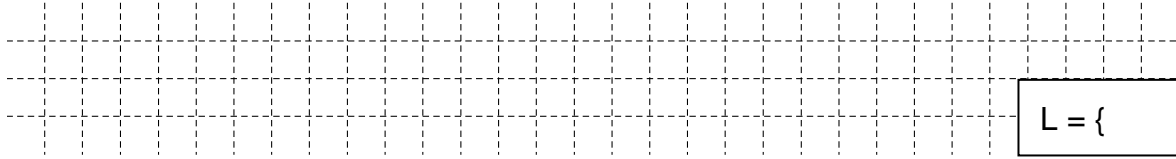
____/1

- 3 Nur eine der folgenden Aussagen ist für jede beliebige Belegung von x wahr.
Kreuze diese an.

$x + x = x^2$ $3x - x = 3$ $x^2 \cdot x^3 = x^5$ $2x \cdot 3x = 6x$

____/1

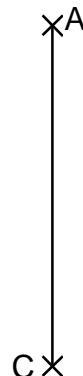
- 4 Gib die Lösungsmenge L der folgenden Gleichung an. $2 \cdot (3x + x^2) - 2x^2 = x + 10$



$L = \{ \quad \}$

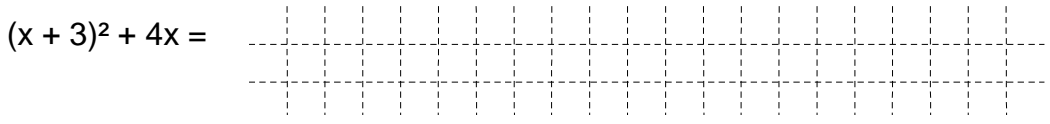
____/1

- 5 Für das Drachenviereck $ABCD$ gilt:
 $\alpha = 80^\circ$ und $\gamma = 50^\circ$.
Vervollständige die Zeichnung
zum Drachenviereck $ABCD$ mit der
Symmetrieachse AC .



____/1

- 6 Löse die Klammer auf und fasse so weit wie möglich zusammen.



____/1

- 7 Gegeben sind der Punkt $A(1|-2)$ und der Pfeil $\overrightarrow{AB} = \begin{pmatrix} 2 \\ 3 \end{pmatrix}$.

Gib die Koordinaten x und y des Punktes $B(x|y)$ an.

Grid for writing the answer.

$B(\quad | \quad)$

___/1

- 8 Gegeben ist der quadratische Term $T(x) = 4 \cdot (x - 3)^2 - 1$.

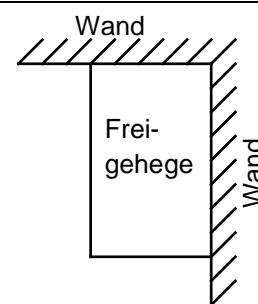
Eine der folgenden Angaben beschreibt den Extremwert, dessen Art und die dazugehörige Belegung von x für diesen Term korrekt.

Kreuze diese an.

- $T_{\max} = 3$ für $x = -1$
 $T_{\max} = 4$ für $x = 3$
 $T_{\max} = -3$ für $x = 4$
 $T_{\min} = 3$ für $x = -1$
 $T_{\min} = -1$ für $x = 3$
 $T_{\min} = -1$ für $x = -3$

___/1

- 9 Pia wünscht sich ein Freigehege für ihre Hühner. Ihr Vater zeigt ihr einen Plan (siehe Skizze), bei dem zwei Wände für zwei Seiten des rechteckigen Geheges genutzt werden sollen. Für die restlichen zwei Seiten sollen insgesamt 15m Zaun vollständig verbaut werden. Gib den Flächeninhalt A des Freigeheges an, wenn es doppelt so lang wie breit sein soll.



Die Skizze ist nicht maßstreu.

Grid for writing the answer.

Der Flächeninhalt A des Geheges beträgt _____ m^2 .

___/1

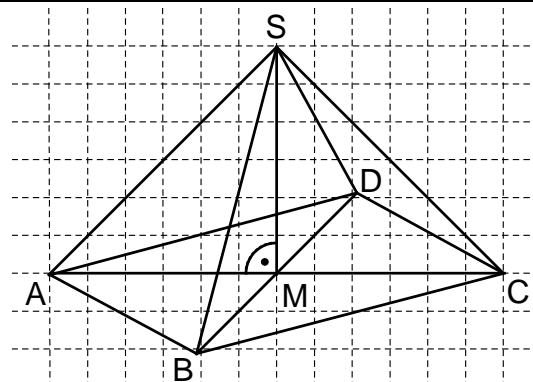
- 10 Die Pyramide $ABCD S$ hat eine quadratische Grundfläche $ABCD$ mit $|\overline{AC}| = 6 \text{ cm}$ und die Höhe $|\overline{MS}| = 3 \text{ cm}$.

Paul sollte ein Schrägbild dieser Pyramide nach folgenden Vorgaben zeichnen:

Schrägbildachse AC ; $q = 0,5$; $\omega = 60^\circ$.

Die Abbildung zeigt sein Ergebnis. Eine der Vorgaben hat er dabei nicht korrekt umgesetzt.

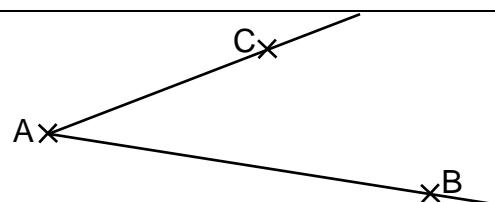
Beschreibe den Fehler, den er bei der Zeichnung gemacht hat.



Grid for writing the answer.

___/1

- 11 Kennzeichne die Menge aller Punkte, die von den Halbgeraden $[AB$ und $[AC$ den gleichen Abstand haben.



Grid for drawing the locus.

___/1

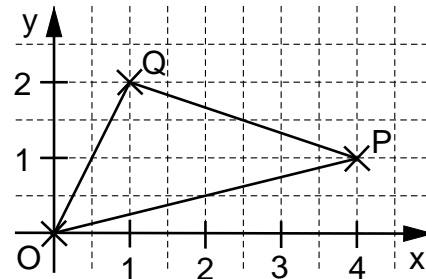
- 12 Der Flächeninhalt A des Dreiecks OPQ soll mit Hilfe einer Determinante ermittelt werden. Einer der folgenden Lösungsansätze ist richtig. Kreuze diesen an.

$A = \frac{1}{2} \cdot \begin{vmatrix} 4 & 1 \\ 1 & 2 \end{vmatrix} \text{ FE}$

$A = \frac{1}{2} \cdot \begin{vmatrix} 1 & 4 \\ 2 & 1 \end{vmatrix} \text{ FE}$

$A = \frac{1}{2} \cdot \begin{vmatrix} 1 & 2 \\ 2 & 1 \end{vmatrix} \text{ FE}$

$A = \frac{1}{2} \cdot \begin{vmatrix} -1 & 4 \\ -2 & 1 \end{vmatrix} \text{ FE}$



___/1

- 13 Ergänze den Nenner, so dass der Bruchterm T(x) die Definitionsmenge $D = \mathbb{Q} \setminus \{3\}$ hat.

$T(x) = \frac{5}{\boxed{}}$

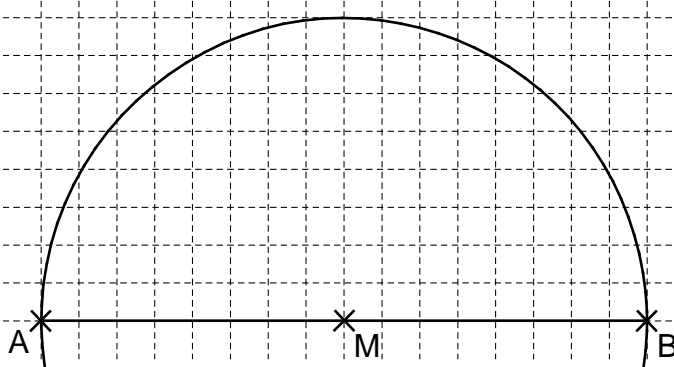
___/1

- 14 Gib die Lösungsmenge L der Bruchgleichung $\frac{1}{2} = \frac{6}{x-2}$ mit $D = \mathbb{Q} \setminus \{2\}$ an.

$L = \{ \}$

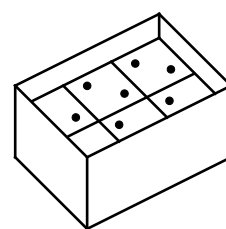
___/1

- 15 Thomas möchte mithilfe des Thaleskreises ein bei C rechtwinkliges Dreieck ABC zeichnen. Vervollständige seine Zeichnung zum Dreieck ABC mit dem Flächeninhalt A von 12 cm^2 .



___/1

- 16 6 Würfel mit einem Volumen von je 8 cm^3 werden wie abgebildet in einen Karton gepackt (s. Skizze). Sie füllen die Breite und die Länge des Kartons vollständig aus. Nur oben bleibt ein Hohlraum mit einer Höhe von 1 cm . Gib an, welches Volumen V der Karton hat.



Die Skizze ist nicht maßstreu.

Das Volumen V des Kartons beträgt _____ cm^3 .

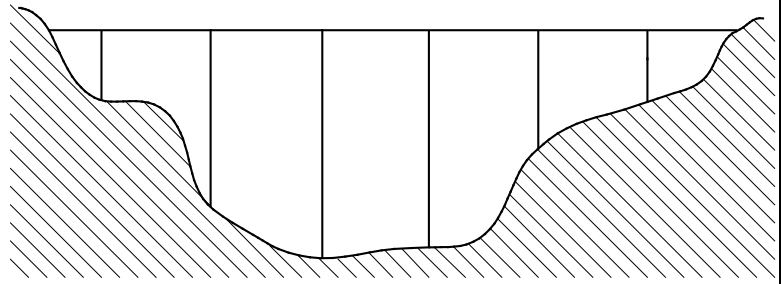
___/1

- 17 Christian hat 160 € gespart und geht mit diesem Geld einkaufen. Er findet eine Jeans und ein Hemd. Die Jeans ist doppelt so teuer wie das Hemd. Nachdem Christian bezahlt hat, verbleiben ihm noch 25% seines Ersparten. Gib an, wie teuer die Jeans war.

Die Jeans kostete _____ € .

___/1

18 Eine Autobahnbrücke mit sechs Pfeilern (siehe maßstabgetreue Abbildung) wird saniert. Am ersten Tag wurden 120 m der Fahrbahn erneuert, das sind 20 % der gesamten Brückenlänge. Anschließend werden die Brückenpfeiler instandgesetzt. Welche Höhe hat der längste Brückenpfeiler? Gib deinen Lösungsweg an.

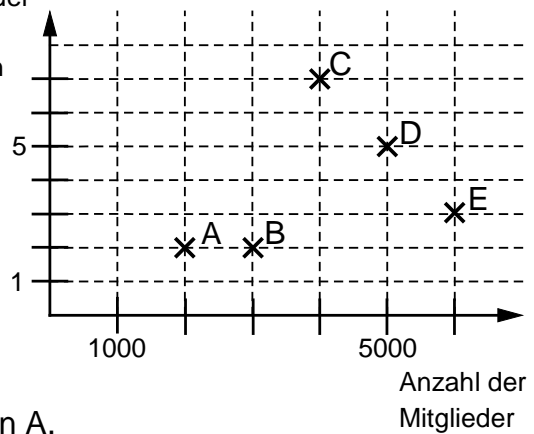


___/1

Der längste Brückenpfeiler ist _____ m hoch.

19 Im abgebildeten Diagramm sind jeweils die Mitgliederzahl und die Anzahl der gewonnenen Meisterschaften von fünf Handballvereinen dargestellt.

Anzahl der Meisterschaften



___/1

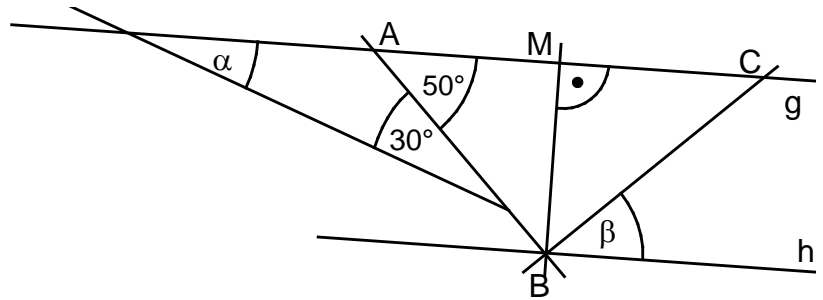
Eine Aussage zum Diagramm ist **falsch**. Kreuze diese an.

- Verein D hat mehr als doppelt so viele Mitglieder wie Verein A.
- Die Vereine C und D haben jeweils mehr als ein Viertel aller Meisterschaften gewonnen.
- Verein B hat um 50 % mehr Mitglieder als Verein A.
- Verein D hat halb so viele Meisterschaften gewonnen wie die Vereine B und C zusammen.

20 Gib die Winkelmaße α und β an.

Es gilt:

$|AM| = |MC|$ und $g \parallel h$.



___/1

$\alpha =$ ° $\beta =$ °

Die Skizze ist nicht maßstabtreu.

___/1

21 Max hat mehrmals eine Münze geworfen und die Ergebnisse in einer Tabelle festgehalten. Bestimme die relative Häufigkeit des Ergebnisses „Kopf“.

Kopf	Zahl

___/1

Die relative Häufigkeit des Ergebnisses „Kopf“ beträgt _____.

Viel Erfolg!

