




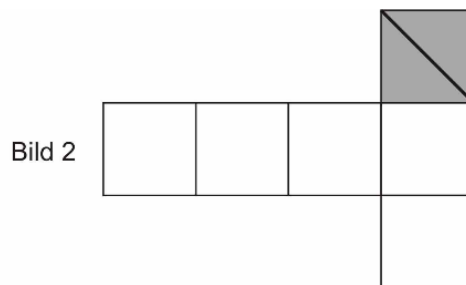
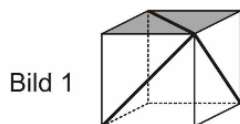
3. Subtrahiere vom Dreifachen der Zahl 176 749 das Vierfache der Zahl 54 808.  
Addiere zu diesem Ergebnis die größte fünfstellige Zahl.

Punkte



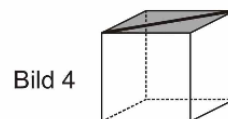
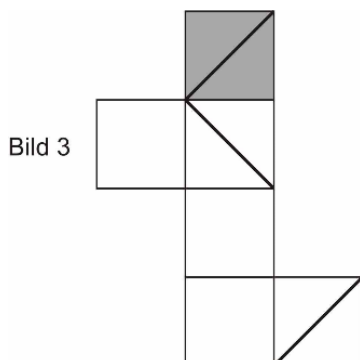
/ 5

4. a) Martha hat auf ihren Würfel drei Linien gezeichnet (siehe Bild 1). Beim Netz (siehe Bild 2) ist eine Linie bereits vorgegeben. Zeichne die beiden fehlenden Linien so ein, dass das Netz zu Marthas Würfel passt.



/ 2

- b) Julian hat in sein Würfelnetz drei Linien gezeichnet (siehe Bild 3). Beim Würfel (siehe Bild 4) ist eine Linie bereits vorgegeben. Zeichne die beiden fehlenden Linien so ein, dass der Würfel zu Julians Netz passt.



/ 2



