


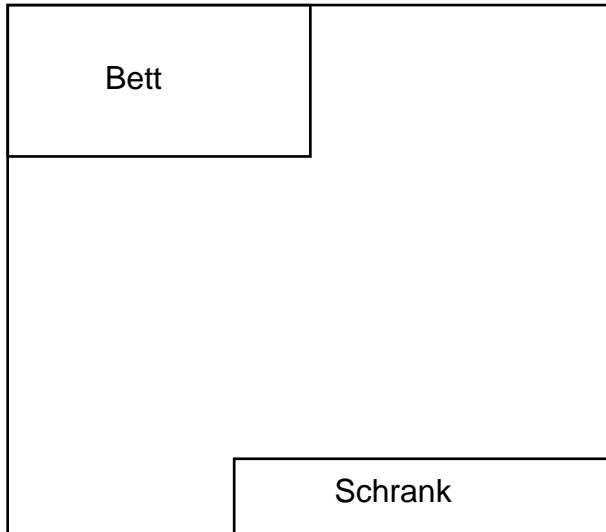






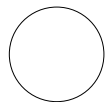
11. Ein Kinderzimmer soll eingerichtet werden. Im Grundriss siehst du ein Bett, das 1 m breit und 2 m lang ist, sowie einen Schrank mit der Länge 2,50 m, der Breite 0,50 m und der Höhe 2 m. Zeichne einen Schreibtisch, der 1,50 m lang und 1 m breit ist, in den Grundriss ein und bestimme den Maßstab.

Punkte



Der Maßstab beträgt:

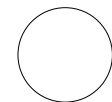
\_\_\_\_\_



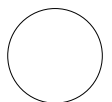
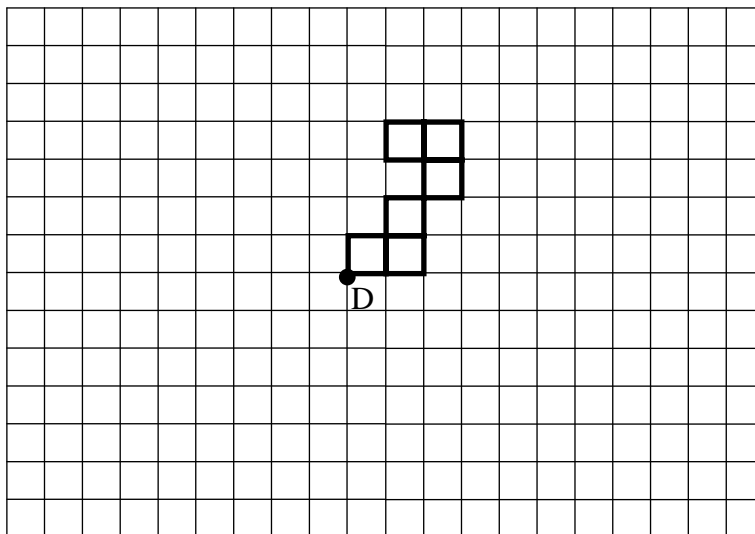
12. Der Sprecher eines Fußballstadions gibt in der Pause die Zuschauerzahl auf Hunderter gerundet mit 44 800 an.

Gib die größtmögliche Zuschauerzahl an: \_\_\_\_\_

Gib die kleinstmögliche Zuschauerzahl an: \_\_\_\_\_



13. Führe für folgende Figur eine Vierteldrehung nach links um den Drehpunkt D aus.



Punkte: