

Abiturprüfung 2013

Mathematik (CAS)

CAS als weiteres zugelassenes Hilfsmittel

Arbeitszeit: 240 Minuten

Der Fachausschuss wählt aus den Themengebieten Analysis, Stochastik und Geometrie jeweils eine Aufgabengruppe zur Bearbeitung aus.

<hr/> <p>Name des Prüflings</p>

Das Geheft mit den Aufgabenstellungen ist abzugeben.

Analysis

Aufgabengruppe I

Teil 1

BE

3

1 Gegeben ist die Funktion $g: x \mapsto \sqrt{3x+9} - 1$ mit maximaler Definitionsmenge D .

3

a) Bestimmen Sie D und geben Sie die Schnittpunkte des Graphen von g mit den Koordinatenachsen an.

b) Ermitteln Sie die Gleichung der Tangente an den Graphen von g , die durch den Punkt $P(-4 | 0)$ verläuft.

2 Geben Sie jeweils den Term einer in \mathbb{R} definierten Funktion an, die die angegebene Wertemenge W hat.

2

a) $W = [2; +\infty[$

2

b) $W = [-2; 2]$

4

3 Skizzieren Sie den Verlauf des Graphen einer ganzrationalen Funktion vierten Grades mit

$\alpha)$ genau einer Nullstelle.

$\beta)$ genau zwei Nullstellen.

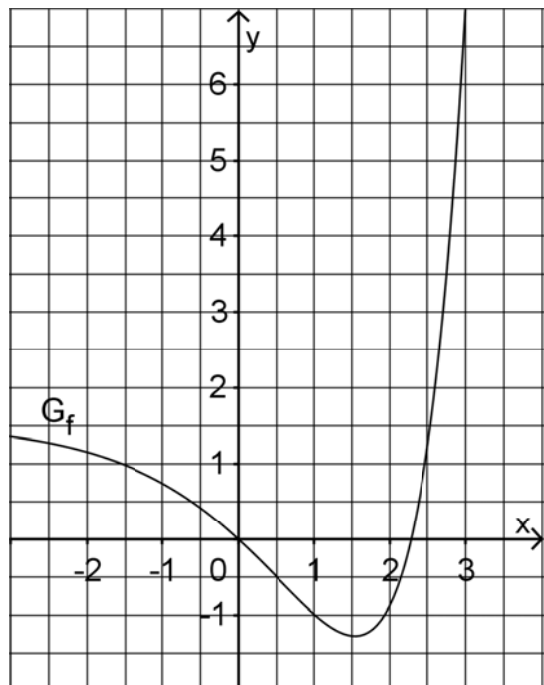
$\gamma)$ genau drei Nullstellen.

$\delta)$ genau vier Nullstellen.

6

4 Die Abbildung zeigt den Graphen G_f einer in \mathbb{R} definierten Funktion f . Skizzieren Sie in der Abbildung den Graphen der in \mathbb{R} definierten Integralfunktion $F: x \mapsto \int_1^x f(t) dt$. Berücksichtigen

Sie dabei mit angemessener Genauigkeit insbesondere die Nullstellen und Extremstellen von F sowie $F(0)$.



20

(Fortsetzung nächste Seite)

1 Gegeben ist die Schar der in \mathbb{R} definierten Funktionen $f_{a,b} : x \mapsto ax \cdot e^{-bx^2}$ mit $a, b \in \mathbb{R}^+$.

2 a) Zeigen Sie, dass der Graph von $f_{a,b}$ punktsymmetrisch bezüglich des Koordinatenursprungs ist.

3 b) Bestimmen Sie a und b so, dass der Graph von $f_{a,b}$ im Punkt $(0 | f_{a,b}(0))$ die Steigung 2 und im Punkt $(\sqrt{3} | f_{a,b}(\sqrt{3}))$ einen Wendepunkt hat.

Nun wird die Schar der in \mathbb{R} definierten Funktionen $g_c : x \mapsto f(x) + c$ mit $c \in \mathbb{R}$ betrachtet. Dabei ist f die Funktion $f_{a,b}$ mit $a = 2$ und $b = \frac{1}{2}$, d. h.

$$g_c(x) = 2x \cdot e^{-\frac{1}{2}x^2} + c.$$

Der Graph von g_c wird mit G_c bezeichnet.

3 2 a) Geben Sie in Abhängigkeit von c an, wie G_c aus dem Graphen von f hervorgeht. Welche Folgerung lässt sich daraus für das Symmetrieverhalten von G_c ziehen?

2 b) Jeder Graph von g_c hat eine waagrechte Asymptote. Bestimmen Sie die Gleichung dieser Asymptote in Abhängigkeit von c .

5 c) Untersuchen Sie das Monotonieverhalten von G_c und bestimmen Sie Lage und Art der Extrempunkte von G_c in Abhängigkeit von c . Begründen Sie, dass alle Hochpunkte der Graphen von g_c auf einer Parallelen zur y -Achse liegen.

(Teilergebnis: y -Koordinate des Hochpunkts: $\frac{2}{\sqrt{e}} + c$)

4 d) Betrachtet werden die mittlere Änderungsrate m_S von g_c im Intervall $[-d; d]$ mit $d \in \mathbb{R}^+$ sowie die lokale Änderungsrate m_T von g_c an der Stelle $x = 0$. Bestimmen Sie d – auf zwei Dezimalen genau – so, dass m_S von m_T um 10% abweicht.

4 e) Geben Sie die Anzahl der Nullstellen von g_c in Abhängigkeit von c an.

2 f) Begründen Sie für $c > 0$ anhand einer geeigneten Skizze, dass

$$\int_0^3 g_c(x) dx = \int_0^3 f(x) dx + 3c \text{ gilt.}$$

(Fortsetzung nächste Seite)

- 4 **g)** Jeder Graph von g_c schließt mit den beiden Geraden, die durch die Gleichungen $y = c$ und $x = u$ mit $u \in \mathbb{R}^+$ gegeben sind, für $0 \leq x \leq u$ ein Flächenstück mit dem Inhalt $A(u)$ ein.

Bestimmen Sie $A(u)$. Geben Sie $\lim_{u \rightarrow +\infty} A(u)$ an und deuten Sie das Ergebnis geometrisch.

- 4 **h)** Geben Sie an, für welche Werte von $m \in \mathbb{R} \setminus \{0\}$ die Gerade mit der Gleichung $y = m \cdot x + c$ mit dem Graphen von g_c zwei Flächenstücke vollständig einschließt. Bestimmen Sie für $m = \frac{2}{e^2}$ den Inhalt jedes dieser Flächenstücke.

- 3** Die Anzahl der Kinder, die eine Frau im Laufe ihres Lebens durchschnittlich zur Welt bringt, wird durch eine sogenannte Geburtenziffer angegeben, die jedes Jahr statistisch ermittelt wird.

Die Funktion $g_{1,4} : x \mapsto 2x \cdot e^{-\frac{1}{2}x^2} + 1,4$ beschreibt für $x \geq 0$ modellhaft die zeitliche Entwicklung der Geburtenziffer in einem europäischen Land. Dabei ist x die seit dem Jahr 1955 vergangene Zeit in Jahrzehnten (d. h. $x = 1$ entspricht dem Jahr 1965) und $g_{1,4}(x)$ die Geburtenziffer. Damit die Bevölkerungszahl in diesem Land langfristig näherungsweise konstant bleibt, ist dort eine Geburtenziffer von etwa 2,1 erforderlich.

- 2 **a)** Ermitteln Sie auf der Grundlage des Modells näherungsweise, in welchem Zeitraum die Geburtenziffer mindestens 2,1 beträgt.

- 2 **b)** Welche künftige Entwicklung der Bevölkerungszahl ist auf der Grundlage des Modells zu erwarten? Begründen Sie Ihre Antwort.

- 3 **c)** Im betrachteten Zeitraum gibt es ein Jahr, in dem die Geburtenziffer am stärksten abnimmt. Bestimmen Sie einen Näherungswert für dieses Jahr. Beschreiben Sie, wie man auf der Grundlage des Modells rechnerisch nachweisen könnte, dass die Abnahme der Geburtenziffer von diesem Jahr an kontinuierlich schwächer wird.

Analysis

Aufgabengruppe II

Teil 1

BE

1 Gegeben ist die Funktion $b : x \mapsto \ln(2013 - x)$ mit maximalem Definitionsbereich D .

2 a) Geben Sie D sowie die Wertemenge von b an.

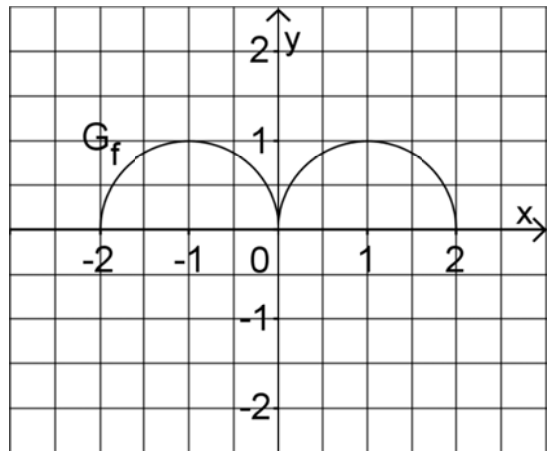
3 b) Begründen Sie, dass b umkehrbar ist und bestimmen Sie den Term der Umkehrfunktion.

4 c) Der Graph von b schließt mit den Koordinatenachsen eine Fläche ein. Diese Fläche wird durch den Graphen der Umkehrfunktion in zwei Teilflächen zerlegt. Bestimmen Sie näherungsweise den Inhalt derjenigen Teilfläche, die auch von der y -Achse begrenzt wird.

3 2 Geben Sie den Term einer ganzrationalen Funktion dritten Grades an, die nur die Nullstellen $x = -2$ und $x = 5$ besitzt und deren Graph die y -Achse im Punkt $(0|1)$ schneidet.

3 3 Geben Sie den Term einer trigonometrischen Funktion an, die die Periode π und die kleinste positive Nullstelle bei $x = \frac{\pi}{4}$ hat.

4 Abbildung 1 zeigt den Graphen G_f der Funktion f mit Definitionsbereich $[-2; 2]$. Der Graph besteht aus zwei Halbkreisen, die die Mittelpunkte $(-1|0)$ bzw. $(1|0)$ sowie jeweils den Radius 1 besitzen. Betrachtet wird die in $[-2; 2]$ definierte Integralfunktion $F : x \mapsto \int_0^x f(t) dt$.



3 a) Geben Sie $F(0)$, $F(2)$ und $F(-2)$ an.

2 b) Skizzieren Sie den Graphen von F in Abbildung 1.

Abb. 1

20

(Fortsetzung nächste Seite)

Teil 2

Gegeben ist die Schar der Funktionen $f_k : x \mapsto \frac{x^2 + k}{2 \cdot (x+1)}$ mit $k \in \mathbb{R}^+$ und

Definitionsbereich $\mathbb{R} \setminus \{-1\}$. Der Graph von f_k wird mit G_k bezeichnet; Abbildung 2 zeigt G_{15} .

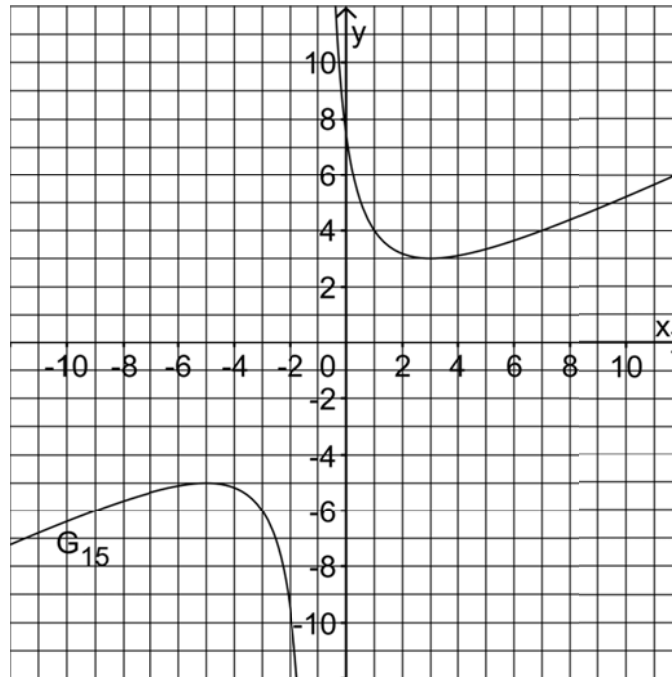


Abb. 2

1 Betrachtet wird zusätzlich die in \mathbb{R} definierte Funktion $a : x \mapsto \frac{1}{2}x - \frac{1}{2}$.

- 3 a) Begründen Sie, dass der Graph von a Asymptote aller Graphen von f_k ist. Geben Sie an, für welche x -Werte G_k unterhalb und für welche x -Werte G_k oberhalb dieser schrägen Asymptote verläuft.
- 2 b) Geben Sie die Gleichung der weiteren Asymptote von G_k an und zeichnen Sie die beiden Asymptoten für G_{15} in Abbildung 2 ein.
- 4 c) Ermitteln Sie in Abhängigkeit von k , für welche x -Werte sich die Funktionswerte von f_k und a um weniger als $\frac{1}{4}$ unterscheiden.
- 5 d) Bestimmen Sie Lage und Art der Extrempunkte von G_k in Abhängigkeit von k . Begründen Sie, dass die Extrempunkte von G_k auf der Geraden mit der Gleichung $y = x$ liegen.
- (zur Kontrolle: x -Koordinate des Tiefpunkts: $\sqrt{k+1} - 1$)
- 7 e) Die Tangente an G_k im Punkt $(0 | f_k(0))$ schließt mit den beiden Asymptoten von G_k ein Dreieck ein. Ermitteln Sie den Flächeninhalt des Dreiecks in Abhängigkeit von k . Bestimmen Sie den Wert von k so, dass das Dreieck rechtwinklig ist.

(Fortsetzung nächste Seite)

Abbildung 2 legt die Vermutung nahe, dass G_k bezüglich des Schnittpunkts $P(-1|-1)$ seiner Asymptoten symmetrisch ist. Zum Nachweis dieser Symmetrie von G_k kann die Funktion h_k betrachtet werden, deren Graph aus G_k durch Verschiebung um 1 in positive x -Richtung und um 1 in positive y -Richtung hervorgeht.

- 4 f) Bestimmen Sie einen Funktionsterm von h_k . Weisen Sie anschließend die Punktsymmetrie von G_k nach, indem Sie zeigen, dass der Graph von h_k punktsymmetrisch bezüglich des Koordinatenursprungs ist.

- 5 g) Der Wert des Integrals $\int_0^4 f_k(x) dx$ wird mit $A(k)$ bezeichnet.

Bestimmen Sie ohne Integration den Wert des Integrals $\int_{-6}^{-2} f_k(x) dx$ in

Abhängigkeit von $A(k)$; veranschaulichen Sie Ihr Vorgehen am Beispiel von f_{15} durch geeignete Eintragungen in Abbildung 2.

- 2 Eine vertikal stehende Getränkedose hat die Form eines geraden Zylinders. Die Lage des gemeinsamen Schwerpunkts S von Dose und enthaltener Flüssigkeit hängt von der Füllhöhe der Flüssigkeit über dem Dosenboden ab. Ist die Dose vollständig gefüllt, so beträgt die Füllhöhe 15 cm.

Die zu $k = 15$ gehörende Funktion f_{15} gibt für $0 \leq x \leq 15$ die Höhe von S über dem Dosenboden in Zentimetern an; dabei ist x die Füllhöhe in Zentimetern (vgl. Abbildung 3).

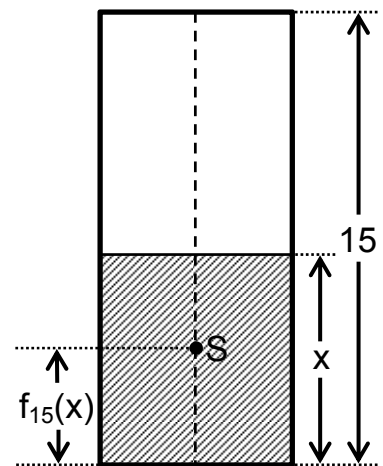


Abb.3

- 3 a) Berechnen Sie $f_{15}(0)$ und $f_{15}(15)$. Interpretieren Sie die beiden Ergebnisse im Sachzusammenhang.

- 3 b) Die zunächst leere Dose wird langsam mit Flüssigkeit gefüllt, bis die maximale Füllhöhe von 15 cm erreicht ist. Beschreiben Sie mithilfe von Abbildung 2 die Bewegung des Schwerpunkts S während des Füllvorgangs. Welche Bedeutung im Sachzusammenhang hat die Tatsache, dass x -Koordinate und y -Koordinate des Tiefpunkts von G_{15} übereinstimmen?

- 4 c) Die Dose enthält gerade so viel Flüssigkeit, dass sich der Schwerpunkt S in seiner geringsten Höhe befindet. Das Verhältnis von Durchmesser und Höhe der Dose beträgt 3:7. Ermitteln Sie damit das Volumen der in der Dose enthaltenen Flüssigkeit in Millilitern.

Stochastik

Aufgabengruppe I

BE

- 1 Folgende Tabelle gibt die Verteilung der Blutgruppen und der Rhesusfaktoren innerhalb der Bevölkerung Deutschlands wieder:

	0	A	B	AB
Rh+	35 %	37 %	9 %	4 %
Rh-	6 %	6 %	2 %	1 %

In einem Krankenhaus spenden an einem Vormittag 25 Personen Blut. Im Folgenden soll angenommen werden, dass diese 25 Personen eine zufällige Auswahl aus der Bevölkerung darstellen.

- 2 a) Bestimmen Sie die Wahrscheinlichkeit dafür, dass genau zehn der Spender die Blutgruppe A haben.
- 2 b) Ermitteln Sie die Wahrscheinlichkeit dafür, dass mehr als die Hälfte der Spender die Blutgruppe 0 und den Rhesusfaktor Rh+ besitzt.
- 3 c) Beschreiben Sie im Sachzusammenhang ein Ereignis, dessen Wahrscheinlichkeit durch den Term $1 - (0,89^{25} + 25 \cdot 0,11 \cdot 0,89^{24})$ angegeben wird.

Folgende Tabelle gibt für die verschiedenen Empfänger von Spenderblut an, welches Spenderblut für sie jeweils geeignet ist:

		Spender							
		0 Rh-	0 Rh+	A Rh-	A Rh+	B Rh-	B Rh+	AB Rh-	AB Rh+
Empfänger	AB Rh+	✓	✓	✓	✓	✓	✓	✓	✓
	AB Rh-	✓		✓		✓		✓	
	B Rh+	✓	✓			✓	✓		
	B Rh-	✓				✓			
	A Rh+	✓	✓	✓	✓				
	A Rh-	✓		✓					
	0 Rh+	✓	✓						
	0 Rh-	✓							

- 4 d) Für einen Patienten mit der Blutgruppe B und dem Rhesusfaktor Rh- wird Spenderblut benötigt. Bestimmen Sie, wie viele zufällig ausgewählte Personen mindestens Blut spenden müssten, damit man mit einer Wahrscheinlichkeit von mehr als 95 % mindestens eine für diesen Patienten geeignete Blutspende erhält.

(Fortsetzung nächste Seite)

2 Bei 0,074 % der neugeborenen Kinder liegt eine bestimmte Stoffwechselstörung vor. Wird diese Störung frühzeitig erkannt, lässt sich durch eine geeignete Behandlung eine spätere Erkrankung vermeiden. Zur Früherkennung kann zunächst ein einfacher Test durchgeführt werden. Zeigt das Ergebnis des Tests die Stoffwechselstörung an, so bezeichnet man es als positiv.

Liegt bei einem neugeborenen Kind die Stoffwechselstörung vor, so ist das Testergebnis mit einer Wahrscheinlichkeit von 99,5 % positiv. Liegt bei einem neugeborenen Kind die Stoffwechselstörung nicht vor, so beträgt die Wahrscheinlichkeit dafür, dass das Testergebnis irrtümlich positiv ist, 0,78 %.

Bei einem zufällig ausgewählten neugeborenen Kind wird der Test durchgeführt. Betrachtet werden folgende Ereignisse:

S: „Die Stoffwechselstörung liegt vor.“

T: „Das Testergebnis ist positiv.“

2 a) Beschreiben Sie das Ereignis $\overline{S \cup T}$ im Sachzusammenhang.

8 b) Berechnen Sie die Wahrscheinlichkeiten $P(T)$ und $P_T(S)$. Interpretieren Sie das Ergebnis für $P_T(S)$ im Sachzusammenhang.

(zur Kontrolle: $P(T) \approx 0,85\%$, $P_T(S) < 0,1$)

3 c) Im Rahmen eines Screenings wird eine sehr große Anzahl zufällig ausgewählter neugeborener Kinder getestet. Ermitteln Sie die pro Million getesteter Kinder im Mittel zu erwartende Anzahl derjenigen Kinder, bei denen die Stoffwechselstörung vorliegt und das Testergebnis negativ ist.

3 Um Geld für die Ausstattung des Spielbereichs in der Kinderstation des Krankenhauses einzunehmen, wird ein Gewinnspiel angeboten. Nachdem der Spieler zwei Euro bezahlt hat, werden aus einem Behälter, in dem sich drei rote, drei grüne und drei blaue Kugeln befinden, drei Kugeln ohne Zurücklegen zufällig entnommen. Haben die drei entnommenen Kugeln die gleiche Farbe, so gewinnt der Spieler und bekommt einen bestimmten Geldbetrag ausgezahlt; ansonsten verliert er und erhält keine Auszahlung. Anschließend werden die gezogenen Kugeln in den Behälter zurückgelegt.

2 a) Zeigen Sie, dass bei einem Spiel die Wahrscheinlichkeit für einen Gewinn $\frac{1}{28}$ beträgt.

4 b) Berechnen Sie, welcher Geldbetrag im Fall eines Gewinns ausgezahlt werden muss, damit im Mittel eine Einnahme von 1,25 Euro pro Spiel für die Ausstattung des Spielbereichs erwartet werden kann.

Stochastik
Aufgabengruppe II

BE

1 In einer Großstadt steht die Wahl des Oberbürgermeisters bevor. 12 % der Wahlberechtigten sind Jungwähler, d. h. Personen im Alter von 18 bis 24 Jahren. Vor Beginn des Wahlkampfs wird eine repräsentative Umfrage unter den Wahlberechtigten durchgeführt. Der Umfrage zufolge haben sich 44 % der befragten Wahlberechtigten bereits für einen Kandidaten entschieden. Jeder Siebte derjenigen Befragten, die sich noch nicht für einen Kandidaten entschieden haben, ist Jungwähler.

Betrachtet werden folgende Ereignisse:

J: „Eine aus den Befragten zufällig ausgewählte Person ist Jungwähler.“

K: „Eine aus den Befragten zufällig ausgewählte Person hat sich bereits für einen Kandidaten entschieden.“

4 a) Erstellen Sie zu dem beschriebenen Sachzusammenhang eine vollständig ausgefüllte Vierfeldertafel.

4 b) Zeigen Sie, dass $P_J(\bar{K}) > P_{\bar{J}}(\bar{K})$ gilt.

Begründen Sie, dass es trotz der Gültigkeit dieser Ungleichung nicht sinnvoll ist, sich im Wahlkampf vorwiegend auf die Jungwähler zu konzentrieren.

3 c) Der Kandidat der Partei A spricht an einem Tag während seines Wahlkampfes 48 zufällig ausgewählte Wahlberechtigte an. Bestimmen Sie auf der Grundlage der Ergebnisse der Umfrage die Wahrscheinlichkeit dafür, dass sich darunter

α) genau sechs Jungwähler befinden.

β) mindestens 25 Personen befinden, die sich noch nicht für einen Kandidaten entschieden haben.

2 Der Umfrage zufolge hätte der Kandidat der Partei A etwa 50 % aller Stimmen erhalten, wenn die Wahl zum Zeitpunkt der Befragung stattgefunden hätte. Ein Erfolg im ersten Wahlgang, für den mehr als 50 % aller Stimmen erforderlich sind, ist demnach fraglich. Deshalb rät die von der Partei A eingesetzte Wahlkampfberaterin in der Endphase des Wahlkampfes zu einer zusätzlichen Kampagne. Der Schatzmeister der Partei A möchte die hohen Kosten, die mit einer zusätzlichen Kampagne verbunden wären, jedoch möglichst vermeiden.

(Fortsetzung nächste Seite)

5

a) Um zu einer Entscheidung über die Durchführung einer zusätzlichen Kampagne zu gelangen, soll die Nullhypothese „Der Kandidat der Partei A würde gegenwärtig höchstens 50 % aller Stimmen erhalten.“ mithilfe einer Stichprobe von 200 Wahlberechtigten auf einem Signifikanzniveau von 5 % getestet werden. Bestimmen Sie die zugehörige Entscheidungsregel.

3

b) Begründen Sie, dass die Wahl der Nullhypothese für den beschriebenen Test in Einklang mit dem Anliegen der Wahlkampfberaterin steht, einen Erfolg bereits im ersten Wahlgang zu erreichen.

3 Nach der Wahl darf die Partei A in einem Ausschuss drei Sitze besetzen. Von den acht Stadträtinnen und vier Stadträten der Partei A, die Interesse an einem Sitz in diesem Ausschuss äußern, werden drei Personen per Losentscheid als Ausschussmitglieder bestimmt.

Die Zufallsgröße X beschreibt die Anzahl der weiblichen Ausschussmitglieder der Partei A. Abbildung 1 zeigt die Wahrscheinlichkeitsverteilung der Zufallsgröße X mit $P(X = 0) = \frac{1}{55}$ und $P(X = 3) = \frac{14}{55}$.

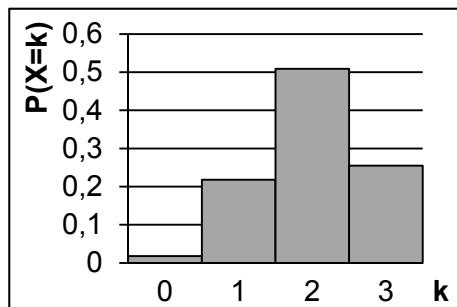


Abb. 1

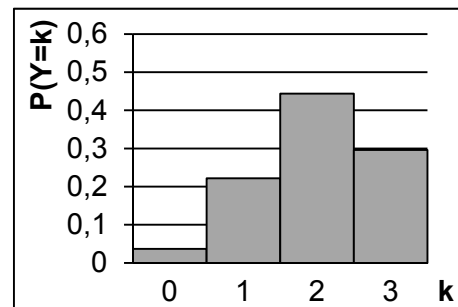


Abb. 2

4

a) Berechnen Sie die Wahrscheinlichkeiten $P(X = 1)$ und $P(X = 2)$.

$$(Ergebnis: P(X = 1) = \frac{12}{55}, P(X = 2) = \frac{28}{55})$$

3

b) Bestimmen Sie Erwartungswert und Varianz der Zufallsgröße X .

$$(Ergebnis: E(X) = 2, \text{Var}(X) = \frac{6}{11})$$

4

c) Abbildung 2 zeigt die Wahrscheinlichkeitsverteilung einer binomialverteilten Zufallsgröße Y mit den Parametern $n = 3$ und $p = \frac{2}{3}$. Zeigen Sie rechnerisch, dass Y den gleichen Erwartungswert wie die Zufallsgröße X , aber eine größere Varianz als X besitzt.

Erläutern Sie, woran man durch Vergleich der Abbildungen 1 und 2 erkennen kann, dass $\text{Var}(Y) > \text{Var}(X)$ gilt.

30

- 3 f) Ein Kubikmeter des verwendeten Betons besitzt eine Masse von 2,1 t. Berechnen Sie die Masse des Grundkörpers.

Der Grundkörper ist mit einer dünnen geradlinigen Bohrung versehen, die im Modell vom Punkt $H(11|3|6)$ der Deckfläche DCRS aus in Richtung des Schnittpunkts der Diagonalen der Grundfläche verläuft. In der Bohrung ist eine gerade Stahlstange mit einer Länge von 1,4 m so befestigt, dass die Stange zu drei Vierteln ihrer Länge aus der Deckfläche herausragt.

- 6 g) Bestimmen Sie im Modell eine Gleichung der Geraden h , entlang derer die Bohrung verläuft, sowie die Koordinaten des Punkts, in dem die Stange in der Bohrung endet.

(zur Kontrolle: möglicher Richtungsvektor von h : $\begin{pmatrix} 3 \\ 2 \\ -6 \end{pmatrix}$)

- 2 h) Berechnen Sie die Größe des Neigungswinkels der Stange gegen die Deckfläche.

- 4 i) Auf der Deckfläche des Grundkörpers liegt eine Stahlkugel mit einem Radius von 0,8 m. Im Modell berührt die Kugel die Deckfläche des Spats im Punkt K. Beschreiben Sie, wie man im Modell rechnerisch überprüfen könnte, ob die Stahlkugel die Stange berührt, wenn die Koordinaten von K bekannt wären.

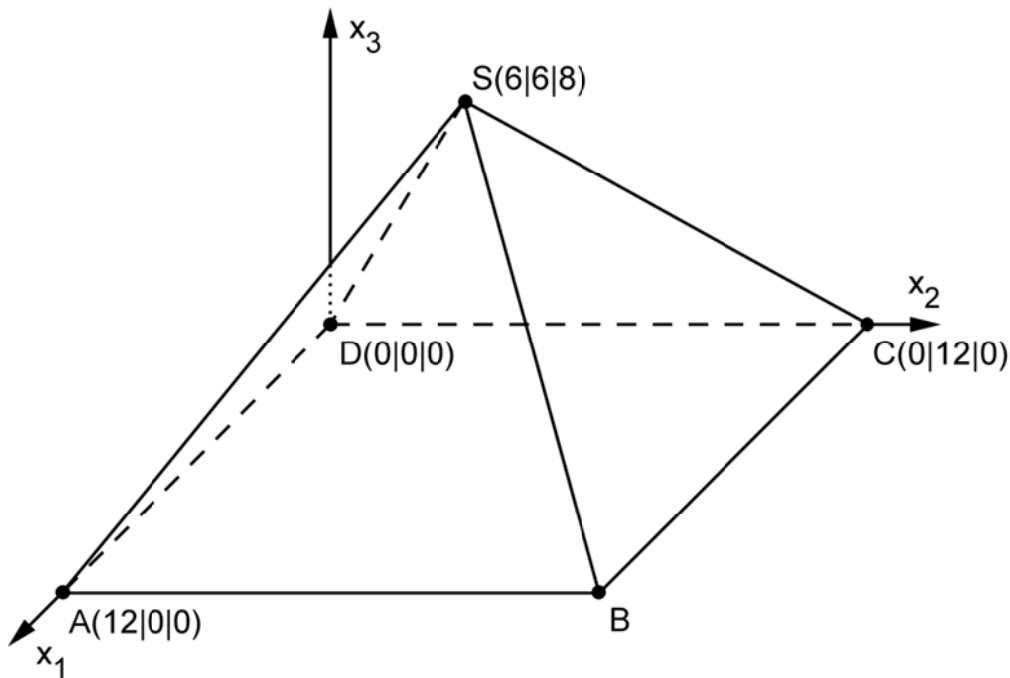
30

Geometrie

Aufabengruppe II

BE

- 1 Die Abbildung zeigt modellhaft einen Ausstellungspavillon, der die Form einer geraden vierseitigen Pyramide mit quadratischer Grundfläche hat und auf einer horizontalen Fläche steht. Das Dreieck BCS beschreibt im Modell die südliche Außenwand des Pavillons. Im Koordinatensystem entspricht eine Längeneinheit 1 m, d. h. die Grundfläche des Pavillons hat eine Seitenlänge von 12 m.



- 3 a) Geben Sie die Koordinaten des Punkts B an und bestimmen Sie das Volumen des Pavillons.
- 3 b) Die südliche Außenwand des Pavillons liegt im Modell in einer Ebene E. Bestimmen Sie eine Gleichung von E in Normalenform.
(mögliches Ergebnis: $E : 4x_2 + 3x_3 - 48 = 0$)
- 5 c) Der Innenausbau des Pavillons erfordert eine möglichst kurze, dünne Strebe zwischen dem Mittelpunkt der Grundfläche und der südlichen Außenwand. Ermitteln Sie, in welcher Höhe über der Grundfläche die Strebe an der Außenwand befestigt ist.

(Fortsetzung nächste Seite)

An einem Teil der südlichen Außenwand sind Solarmodule flächenbündig montiert. Die Solarmodule bedecken im Modell eine dreieckige Fläche, deren Eckpunkte die Spitze S sowie die Mittelpunkte der Kanten [SB] und [SC] sind.

- 4 **d)** Ermitteln Sie den Inhalt der von den Solarmodulen bedeckten Fläche.
- 4 **e)** Die von Solarmodulen abgegebene elektrische Leistung hängt unter anderem von der Größe ihres Neigungswinkels gegen die Horizontale ab. Die Tabelle gibt den Anteil der abgegebenen Leistung an der maximal möglichen Leistung in Abhängigkeit von der Größe des Neigungswinkels an. Schätzen Sie diesen Anteil für die Solarmodule des Pavillons – nach Berechnung des Neigungswinkels – unter Verwendung der Tabelle ab.

Neigungswinkel	0°	10°	20°	30°	40°	50°	60°	70°	80°	90°
Anteil an der maximalen Leistung	87 %	93 %	97 %	100 %	100 %	98 %	94 %	88 %	80 %	69 %

2 In einem kartesischen Koordinatensystem sind die Punkte $L(-2|0|-1)$ und

$M_k(k|k|k)$ mit $k \in \mathbb{R}$ sowie die Schar der Geraden $g_k: \vec{X} = \begin{pmatrix} 8 \\ 1 \\ 7 \end{pmatrix} + \lambda \cdot \overrightarrow{LM_k}$,

$\lambda \in \mathbb{R}$, und die Gerade $h: \vec{X} = \begin{pmatrix} -1 \\ 5 \\ -9 \end{pmatrix} + \mu \cdot \begin{pmatrix} 1 \\ -2 \\ 4 \end{pmatrix}$, $\mu \in \mathbb{R}$, gegeben.

- 3 **a)** Ermitteln Sie diejenigen Werte des Parameters k , für die die Punkte L und M_k den Abstand 4 haben. Geben Sie anschließend k so an, dass L und M_k den kleinstmöglichen Abstand besitzen.

- 2 **b)** Bestimmen Sie k so, dass sich g_k und h im Punkt $T(2|-1|3)$ schneiden.

Aus der gegebenen Schar wird nun die Gerade $g_1: \vec{X} = \begin{pmatrix} 8 \\ 1 \\ 7 \end{pmatrix} + \lambda \cdot \begin{pmatrix} 3 \\ 1 \\ 2 \end{pmatrix}$, $\lambda \in \mathbb{R}$,

betrachtet, die durch den Punkt T verläuft.

- 2 **c)** Geben Sie die Koordinaten zweier Punkte P und Q an, die auf g_1 liegen und von T gleich weit entfernt sind.

- 4 **d)** Zwei Punkte U und V der Geraden h bilden zusammen mit P und Q das Rechteck $PUQV$. Beschreiben Sie einen Weg zur Ermittlung der Koordinaten von U und V .

