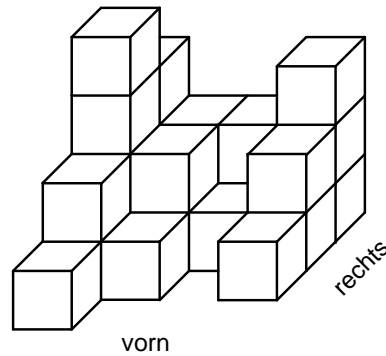






5. Mehmet stapelt 24 gleich große Holzwürfel aufeinander. Es entsteht das abgebildete Bauwerk.



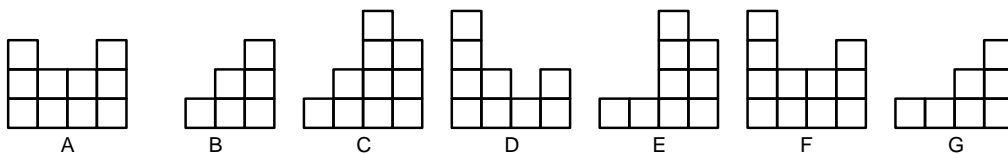
Punkte

- a) Gib an, wie viele Holzwürfel in der Abbildung nicht sichtbar sind:

\_\_\_\_\_

/ 1

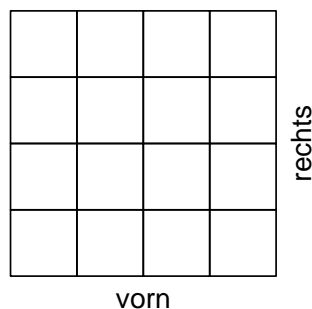
- b) Gib die richtigen Ansichten des Bauwerks an.



Die Abbildung mit dem Buchstaben \_\_\_\_\_ zeigt die Ansicht von vorn,  
 die Abbildung mit dem Buchstaben \_\_\_\_\_ zeigt die Ansicht von rechts.

/ 2

- c) Ein Bauplan gibt an, wie viele Holzwürfel an jeder Stelle gestapelt wurden. Fülle den Bauplan aus.



/ 2

