



Mathematik I

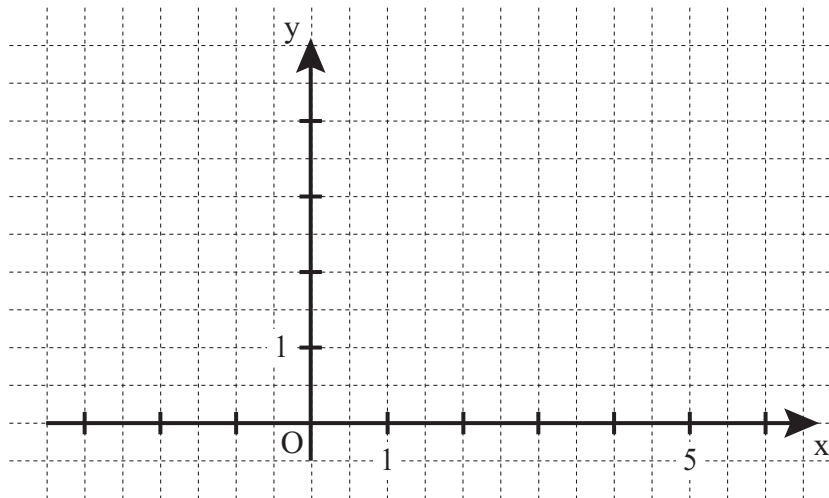
Name: _____ Vorname: _____

Klasse: _____ Platzziffer: _____ Punkte: _____

Aufgabe A 1

Nachtermin

A 1.0 Punkte $C_n(x|x+1)$ auf der Geraden g mit der Gleichung $y = x + 1$ ($\mathbb{G} = \mathbb{R} \times \mathbb{R}$) und Punkte B_n auf der Geraden h mit der Gleichung $y = 3$ ($\mathbb{G} = \mathbb{R} \times \mathbb{R}$) bilden zusammen mit dem Punkt $A(0|0)$ Dreiecke AB_nC_n . Die Abszisse der Punkte B_n ist stets um zwei größer als die Abszisse x der Punkte C_n .



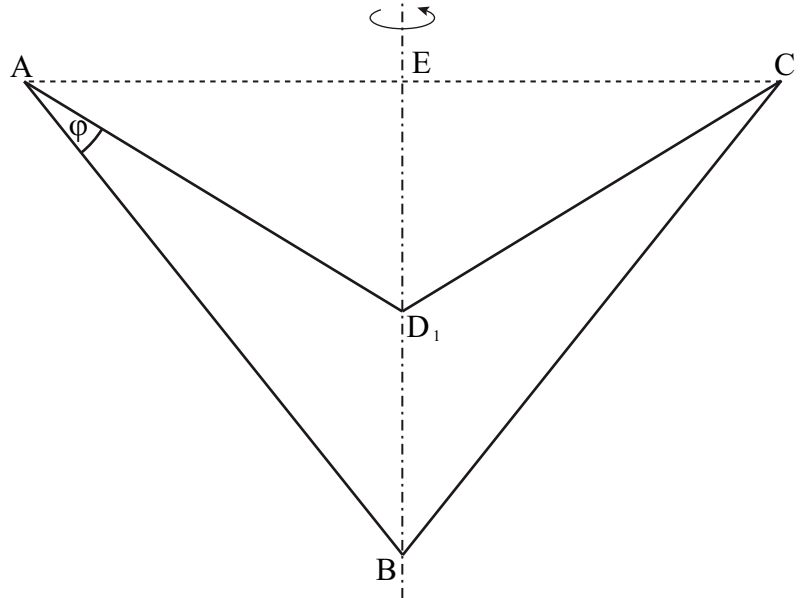
A 1.1 Zeichnen Sie die Geraden g und h sowie das Dreieck AB_1C_1 für $x = 3$ in das Koordinatensystem zu 1.0 ein.

2 P


A 1.2 Unter den Dreiecken AB_nC_n gibt es zwei rechtwinklige Dreiecke AB_2C_2 und AB_3C_3 mit den Hypotenusen $[AB_2]$ bzw. $[AB_3]$. Bestimmen Sie rechnerisch die x -Koordinaten der Punkte C_2 und C_3 auf zwei Stellen nach dem Komma gerundet.

3 P

A 2.0 Die Axialschnitte von Rotationskörpern mit der Rotationsachse BE sind achsensymmetrische Vierecke $ABCD_n$. Die Winkel BAD_n haben das Maß φ mit $\varphi \in]0^\circ; 51,32^\circ[$. Es gilt: $\overline{AB} = \overline{BC} = 8 \text{ cm}$ und $\overline{AC} = 10 \text{ cm}$. Die nebenstehende Zeichnung zeigt das Viereck $ABCD_1$ für $\varphi = 20^\circ$.




A 2.1 Zeigen Sie durch Rechnung, dass für die Länge der Diagonalen $[BD_n]$ der Vierecke $ABCD_n$ in Abhängigkeit von φ gilt: $\overline{BD_n}(\varphi) = \frac{8 \cdot \sin \varphi}{\sin(\varphi + 38,68^\circ)} \text{ cm}$.




2 P

A 2.2 Für $\overline{BD_2} = 4,5 \text{ cm}$ entsteht das Viereck $ABCD_2$. Berechnen Sie das Maß φ des Winkels BAD_2 .



2 P

A 2.3 Zeigen Sie rechnerisch, dass für das Volumen V der entstehenden Rotationskörper in Abhängigkeit von φ gilt: $V(\varphi) = \frac{200}{3} \pi \cdot \frac{\sin \varphi}{\sin(\varphi + 38,68^\circ)} \text{cm}^3$.




2 P

A 2.4 Die Inkreise k_n der Dreiecke AD_nC mit den Mittelpunkten $M_n \in [ED_n]$ und den Radien $r = \overline{M_n E}$ sind Axialschnitte von Kugeln.

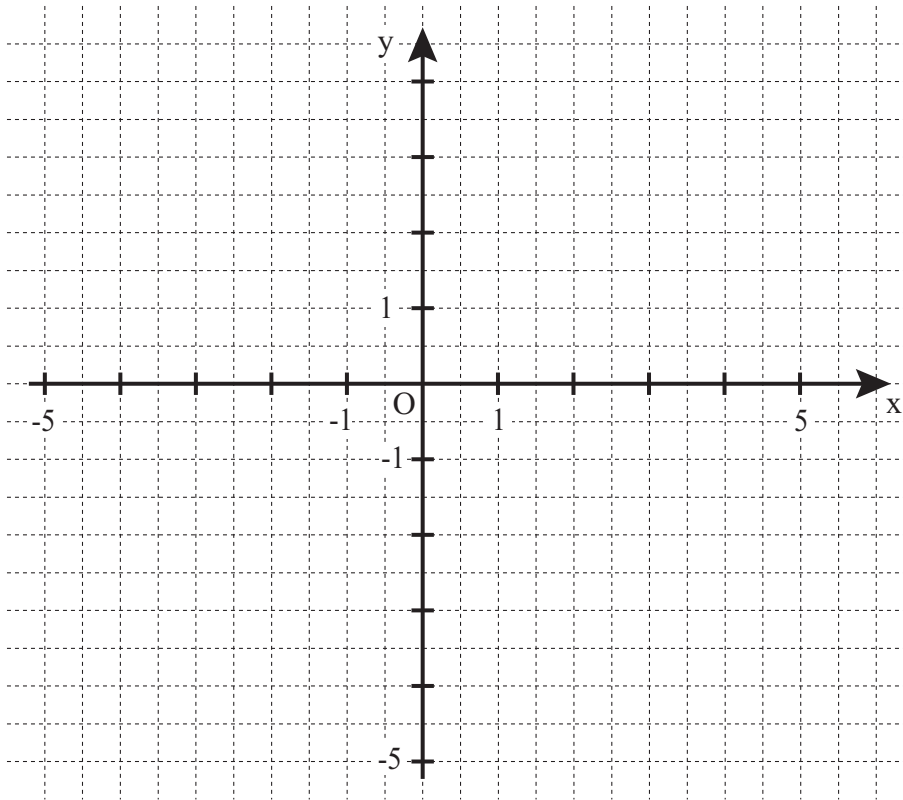
Zeichnen Sie den Inkreis k_1 des Dreiecks AD_1C in die Zeichnung zu 2.0 ein.

Berechnen Sie sodann den Oberflächeninhalt O_{Kugel} in Abhängigkeit von φ .

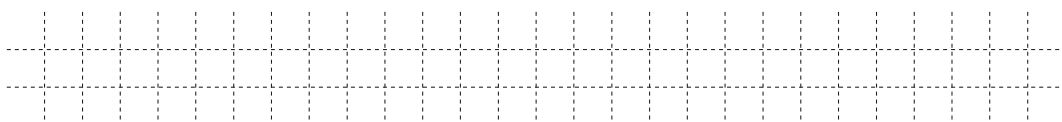


3 P

A 3.0 Gegeben ist die Funktion f_1 mit der Gleichung $y = \log_2 x$ mit $\mathbb{G} = \mathbb{R} \times \mathbb{R}$. Der Graph zu f_1 wird durch orthogonale Affinität mit der x-Achse als Affinitätsachse und dem Affinitätsmaßstab k ($k \in \mathbb{R} \setminus \{0\}$) sowie anschließende Parallelverschiebung mit dem Vektor \vec{v} auf den Graphen der Funktion f_2 mit der Gleichung $y = -0,5 \cdot \log_2(x+1) - 3$ abgebildet ($\mathbb{G} = \mathbb{R} \times \mathbb{R}$).




A 3.1 Zeichnen Sie den Graphen zu f_2 in einem geeigneten Intervall in das Koordinatensystem zu 3.0 ein. Geben Sie sodann den Affinitätsmaßstab k und den Verschiebungsvektor \vec{v} an.



2 P

A 3.2 Bestimmen Sie die nach y aufgelöste Gleichung der Umkehrfunktion f_2^{-1} von f_2 und zeichnen Sie den Graphen zu f_2^{-1} in das Koordinatensystem zu 3.0 ein.



3 P



Mathematik I

Aufgabe B 1

Nachtermin

B 1.0 Gegeben ist die Funktion f mit der Gleichung $y = 0,5^{x+2} + 3$ mit $G = \mathbb{R} \times \mathbb{R}$.

B 1.1 Geben Sie die Definitionsmenge und die Wertemenge der Funktion f an sowie die Gleichung der Asymptote h . Zeichnen Sie sodann den Graphen zu f für $x \in [-4; 5]$ in ein Koordinatensystem.

Für die Zeichnung: Längeneinheit 1 cm; $-5 \leq x \leq 5$; $-2 \leq y \leq 7$ 3 P

B 1.2 Punkte $A_n(x | 0,5^{x+2} + 3)$ auf dem Graphen zu f und der Punkt $B(-2 | 1)$ bilden zusammen mit Punkten C_n gleichschenkelig-rechtwinklige Dreiecke A_nBC_n mit den Basen $[A_nC_n]$.

Zeichnen Sie die Dreiecke A_1BC_1 für $x = -3$ und A_2BC_2 für $x = -0,5$ in das Koordinatensystem zu 1.1 ein. 2 P

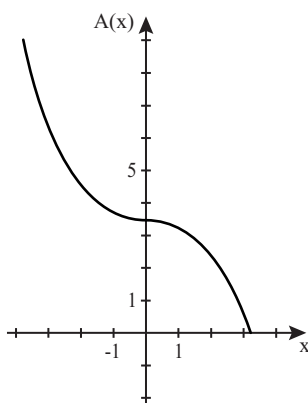
B 1.3 Zeigen Sie, dass für die Punkte C_n in Abhängigkeit von x gilt:
 $C_n(0,5^{x+2} | -x - 1)$.

Bestimmen Sie sodann die Gleichung des Trägergraphen t der Punkte C_n . 5 P

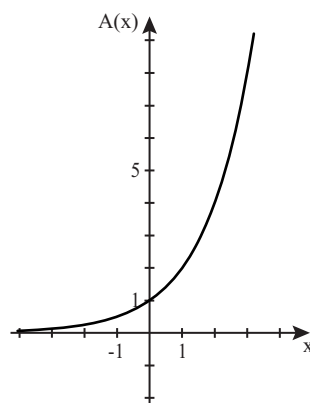
B 1.4 Der Punkt C_3 liegt auf der x -Achse. Berechnen Sie den Flächeninhalt des Dreiecks A_3BC_3 . Runden Sie auf zwei Stellen nach dem Komma. 3 P

B 1.5 Eines der drei untenstehenden Diagramme stellt den Flächeninhalt A der Dreiecke A_nBC_n in Abhängigkeit von der Abszisse x der Punkte A_n dar.

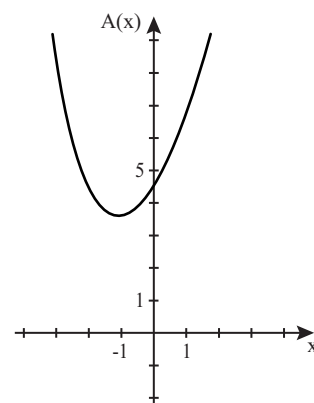
Geben Sie dieses Diagramm an und begründen Sie Ihre Auswahl.



(A)



(B)



(C)

2 P

B 1.6 Punkte M_n sind die Mittelpunkte der Strecken $[A_nC_n]$. Der Punkt M_4 liegt auf der Winkelhalbierenden des I. und III. Quadranten.

Bestimmen Sie die x -Koordinate des Punktes A_4 . 2 P



Mathematik I

Aufgabe B 2

Nachtermin

B 2.0 Die Pfeile $\overrightarrow{AB_n}(\varphi) = \begin{pmatrix} 5 \cos \varphi - 2 \\ 5 \sin^2 \varphi \end{pmatrix}$ mit $A(0 | 0)$ und $\varphi \in]0^\circ; 90^\circ[$ legen Trapeze $AB_nC_nD_n$ fest, deren Eckpunkte C_n durch Achsenspiegelung der Punkte B_n an der Geraden g mit der Gleichung $x = -2$ ($\mathbb{G} = \mathbb{R} \times \mathbb{R}$) entstehen. Die Punkte D_n besitzen dieselbe Abszisse wie die Punkte C_n und liegen auf der x -Achse.

Runden Sie im Folgenden auf zwei Stellen nach dem Komma.

B 2.1 Berechnen Sie die Koordinaten der Pfeile $\overrightarrow{AB_1}$ für $\varphi = 50^\circ$ und $\overrightarrow{AB_2}$ für $\varphi = 70^\circ$ und zeichnen Sie sodann die Gerade g sowie die Trapeze $AB_1C_1D_1$ und $AB_2C_2D_2$ in ein Koordinatensystem.

Für die Zeichnung: Längeneinheit 1 cm; $-9 \leq x \leq 5$; $-2 \leq y \leq 7$ 3 P

B 2.2 Berechnen Sie das Maß des Winkels C_1B_1A . 2 P

B 2.3 Zeigen Sie rechnerisch, dass für die Gleichung des Trägergraphen t ($\mathbb{G} = \mathbb{R} \times \mathbb{R}$) der Punkte C_n gilt: $y = -\frac{1}{5}(x+2)^2 + 5$.

[Teilergebnis: $C_n(-5 \cos \varphi - 2 | 5 \sin^2 \varphi)$] 3 P

B 2.4 Unter den Trapezen $AB_nC_nD_n$ gibt es das Rechteck $AB_3C_3D_3$.
Überprüfen Sie rechnerisch, ob das Rechteck $AB_3C_3D_3$ ein Quadrat ist. 3 P

B 2.5 Zeigen Sie durch Rechnung, dass für den Flächeninhalt A der Trapeze $AB_nC_nD_n$ in Abhängigkeit von φ gilt: $A(\varphi) = (2,5 \cos \varphi (-15 \cos^2 \varphi - 2 \cos \varphi + 15) + 5)$ FE. 3 P

B 2.6 Das Trapez $AB_4C_4D_4$ hat den Flächeninhalt 5 FE. Bestimmen Sie das zugehörige Maß φ . 3 P